

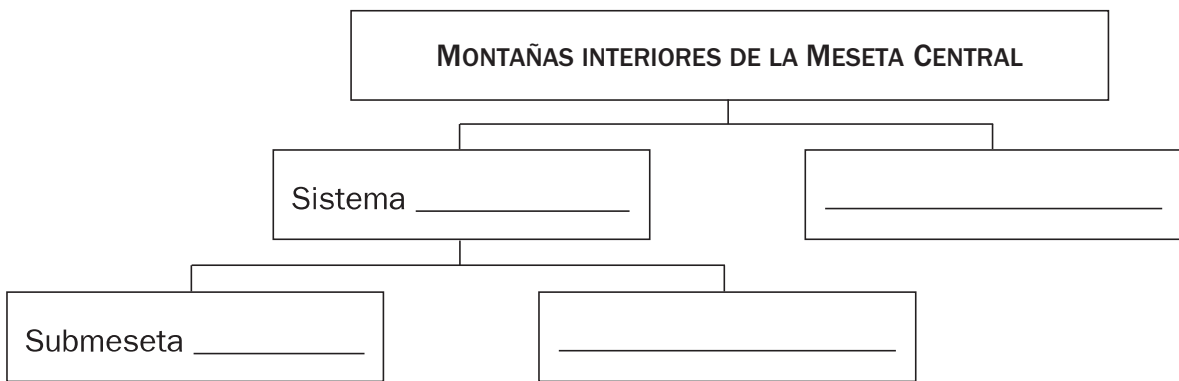
Nombre _____ Fecha _____

Recuerda

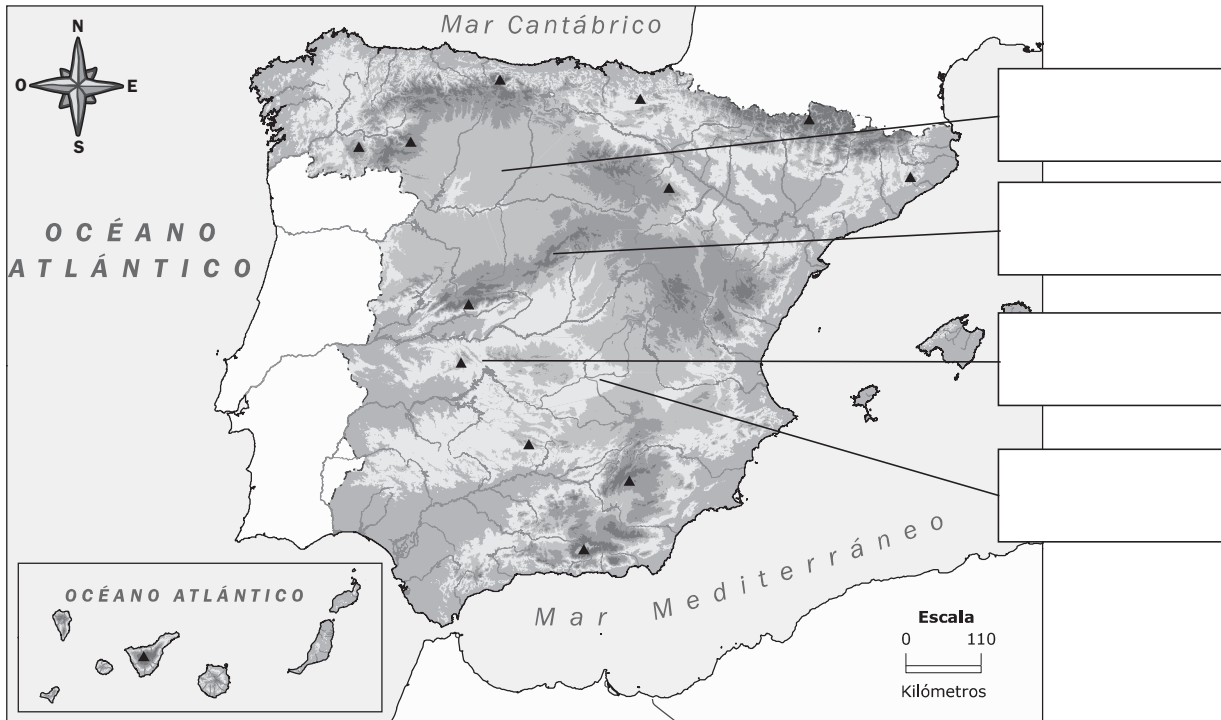
En el centro de la Península está la **Meseta Central**, que es una llanura elevada.

Las montañas del interior de la Meseta son los **Montes de Toledo** y el **Sistema Central**, que divide la Meseta en dos: la **Submeseta Norte** y la **Submeseta Sur**.

1. Completa el esquema.



■ Ahora, completa el mapa con el nombre de esas unidades de relieve.



Las montañas y las depresiones

Nombre _____ Fecha _____

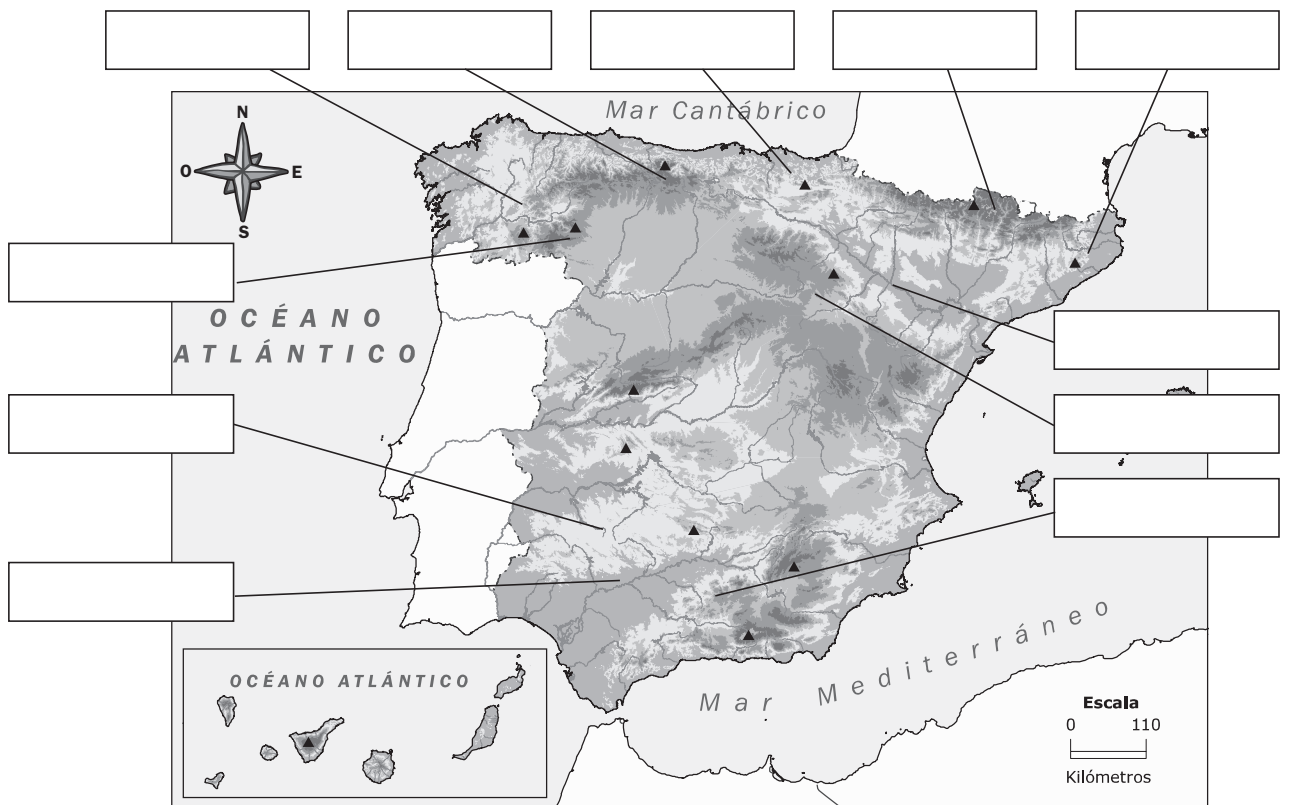
Recuerda

- La Meseta está rodeada por los **Montes de León**, la **Cordillera Cantábrica**, el **Sistema Ibérico** y **Sierra Morena**.
- Fuera de la Meseta están la **depresión del Ebro** y la **depresión del Guadalquivir**, y cinco cordilleras: el **Macizo Galaico**, los **Montes Vascos**, los **Pirineos**, el **Sistema Costero-Catalán** y los **Sistemas Béticos**.

1. Completa el esquema.

Montañas que rodean la Meseta Central	
Depresiones exteriores a la Meseta Central	
Montañas exteriores a la Meseta Central	

■ Ahora, completa el mapa con el nombre de esas unidades de relieve.



Nombre _____ Fecha _____

Recuerda

España tiene una extensa costa que se divide en: costa **cantábrica**, costa **atlántica** y costa **mediterránea**.

Las **islas Baleares** se encuentran en el mar Mediterráneo y las **islas Canarias** en el océano Atlántico.

1. Completa el mapa con los siguientes nombres.

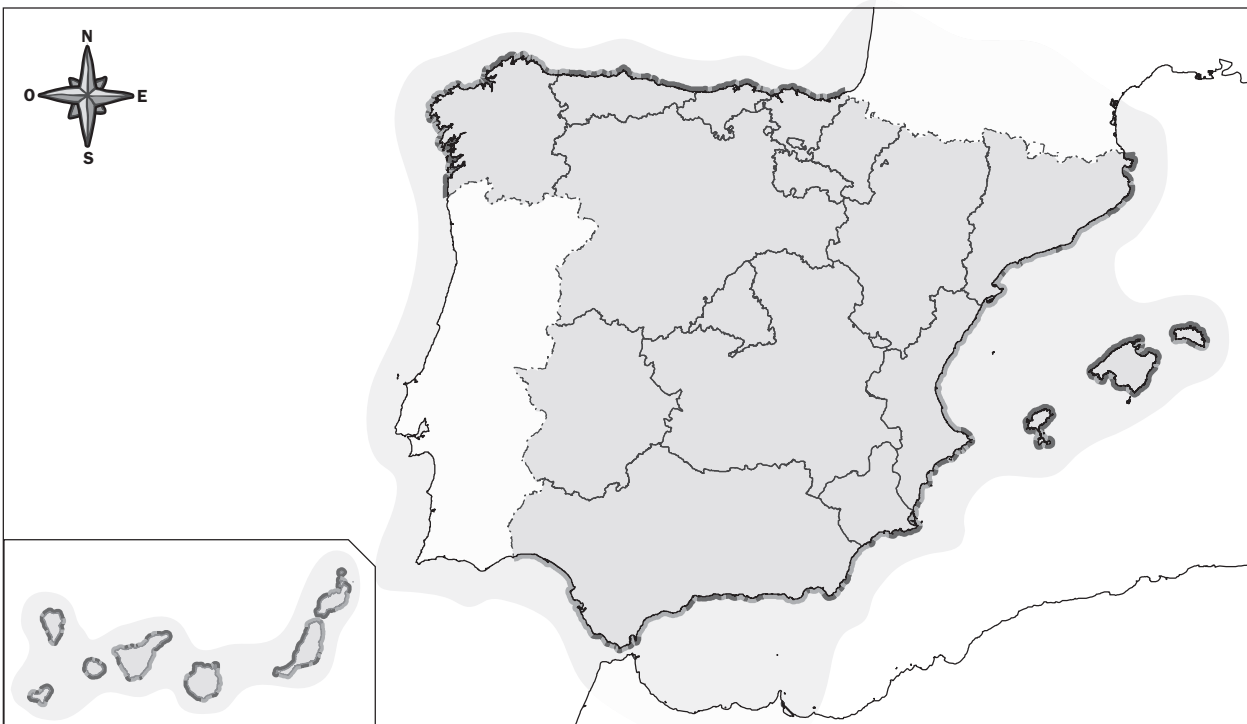
Mar Cantábrico

Océano Atlántico

Mar Mediterráneo

Islas Canarias

Islas Baleares



2. Escribe el nombre de las islas que forman parte de cada archipiélago.

Archipiélago canario

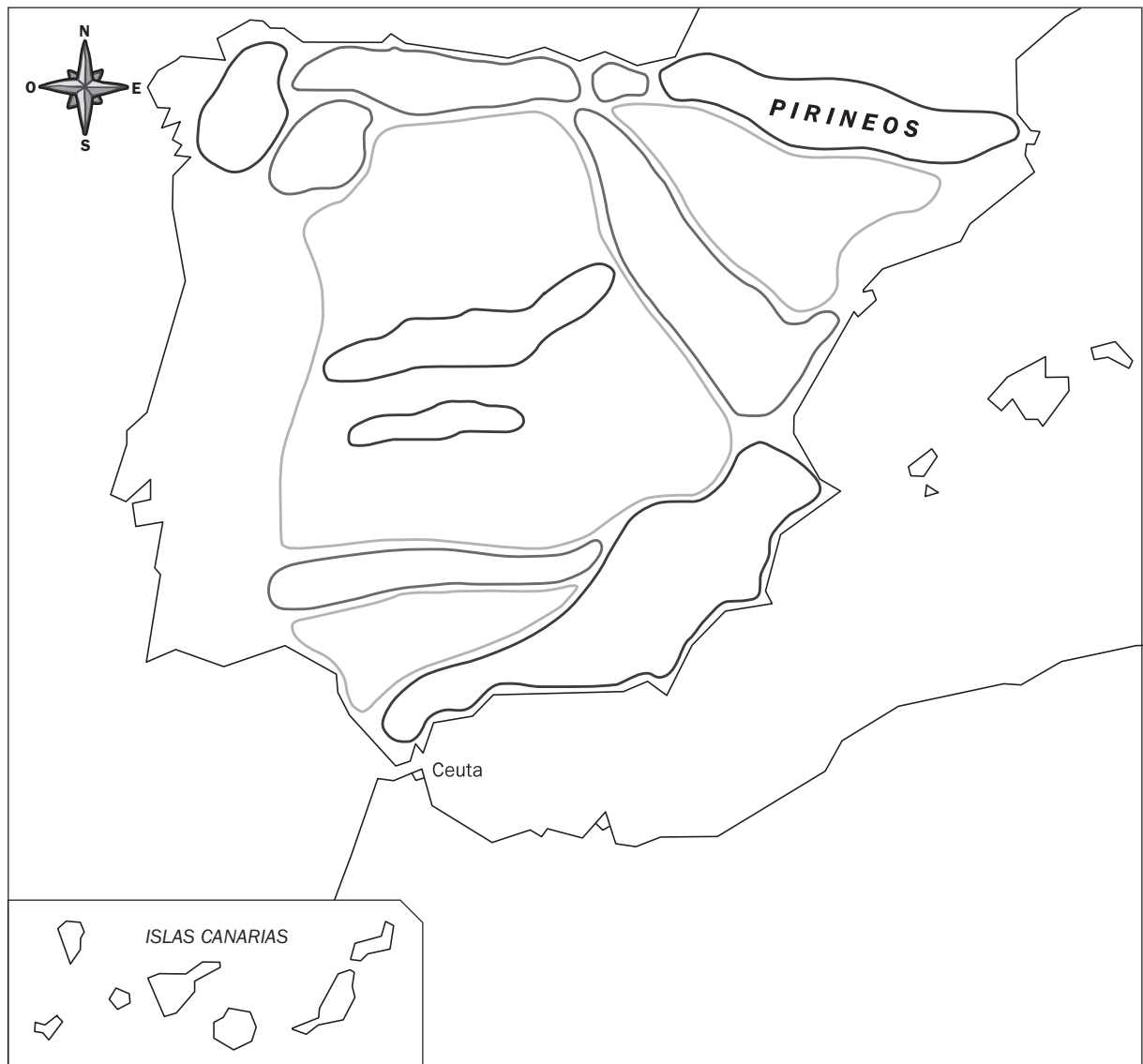
Archipiélago balear

Nombre _____ Fecha _____

Recuerda

El relieve de España está organizado de la siguiente manera:

- En el centro está la Meseta Central. En el interior de la Meseta hay dos cadenas montañosas.
- Alrededor de la Meseta hay cuatro cordilleras.
- Fuera de la Meseta, hay cinco cadenas montañosas y dos amplias depresiones.
- Además, hay dos archipiélagos y los territorios de Ceuta y Melilla, al norte de África.

1. Completa el croquis con los nombres que faltan.

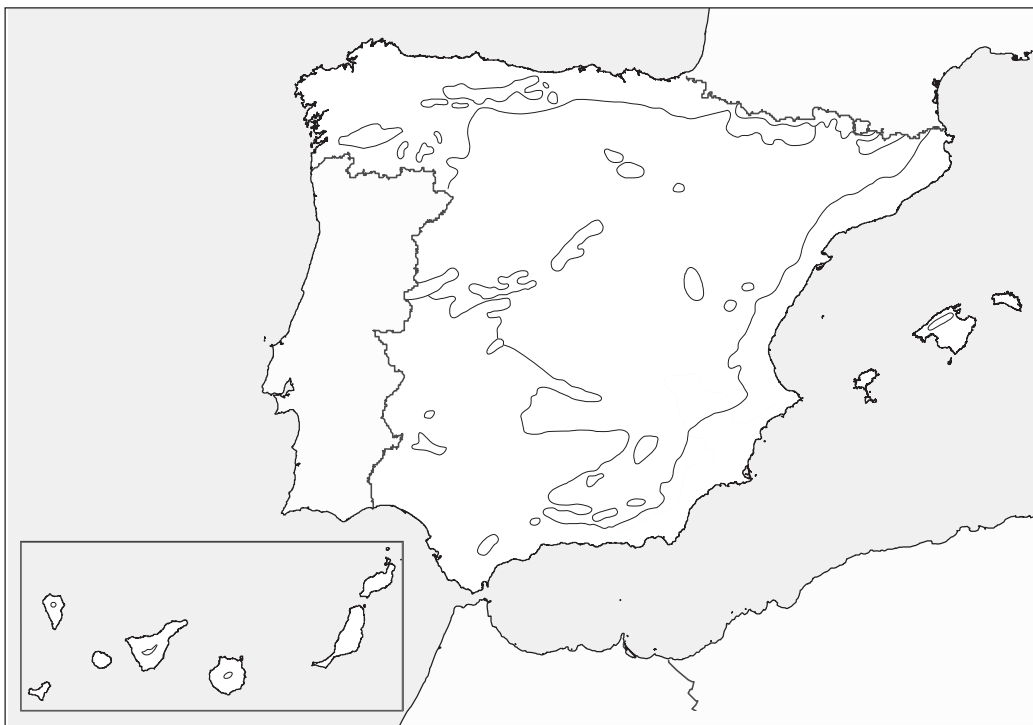
Nombre _____ Fecha _____

Recuerda

En España se dan cinco tipos de climas:

- Clima **mediterráneo típico**.
- Clima **mediterráneo de interior**.
- Clima **oceánico**.
- Clima **subtropical**.
- Clima de **montaña**.

1. Colorea el mapa como se indica en la clave de color.



Naranja

Clima mediterráneo típico.

Amarillo

Clima mediterráneo de interior.

Verde

Clima oceánico.

Rojo

Clima subtropical.

Violeta

Clima de montaña.

Nombre _____ Fecha _____

Recuerda

- El **clima mediterráneo típico** se da en las regiones próximas al mar Mediterráneo. Las temperaturas son suaves y las lluvias, escasas.
- El **clima mediterráneo de interior** tiene temperaturas extremas, muy bajas en invierno y altas en verano. Este clima es propio del interior de la Península.

1. Relaciona cada tipo de clima con la zona de España en la que se da.



Clima mediterráneo típico

Clima mediterráneo de interior

■ Escribe el nombre de las Comunidades Autónomas en las que se da cada tipo de clima mediterráneo.

Clima mediterráneo típico

Clima mediterráneo de interior

2. Explica cómo son las temperaturas y las precipitaciones en cada caso.

Clima mediterráneo típico

Temperaturas: _____

Precipitaciones: _____

Clima mediterráneo de interior

Temperaturas: _____

Precipitaciones: _____

Los climas oceánico, subtropical y de montaña

Nombre _____ Fecha _____

Recuerda

- En el norte de la Península se da el **clima oceánico**. Es un clima templado y húmedo.
- En Canarias hay **clima subtropical**, que es suave y seco.
- En las zonas con más altitud de España se da el **clima de montaña**. Es un clima frío y con abundantes precipitaciones.

1. ¿Qué clima es? Lee y escribe el nombre del clima al que se refieren los siguientes textos.

Se da en el norte de la Península. Las temperaturas son suaves por la proximidad del mar y las precipitaciones son abundantes.

▶ _____




Es propio de las islas Canarias. Es un clima con temperaturas suaves todo el año y con escasas precipitaciones.

▶ _____

Se da en las zonas elevadas. Las temperaturas son bajas y las precipitaciones son muy abundantes, que en los meses de invierno suelen ser en forma de nieve.

▶ _____

2. Observa las temperaturas y las precipitaciones de cada uno de estos gráficos y escribe debajo de cada uno el nombre del clima del que son característicos.



Nombre _____ Fecha _____

Recuerda

Los **ríos** son corrientes continuas de agua que nacen en las montañas y discurren por un **cauce**.

El recorrido que hace un río es su **curso** y la cantidad de agua que lleva es su **caudal**.

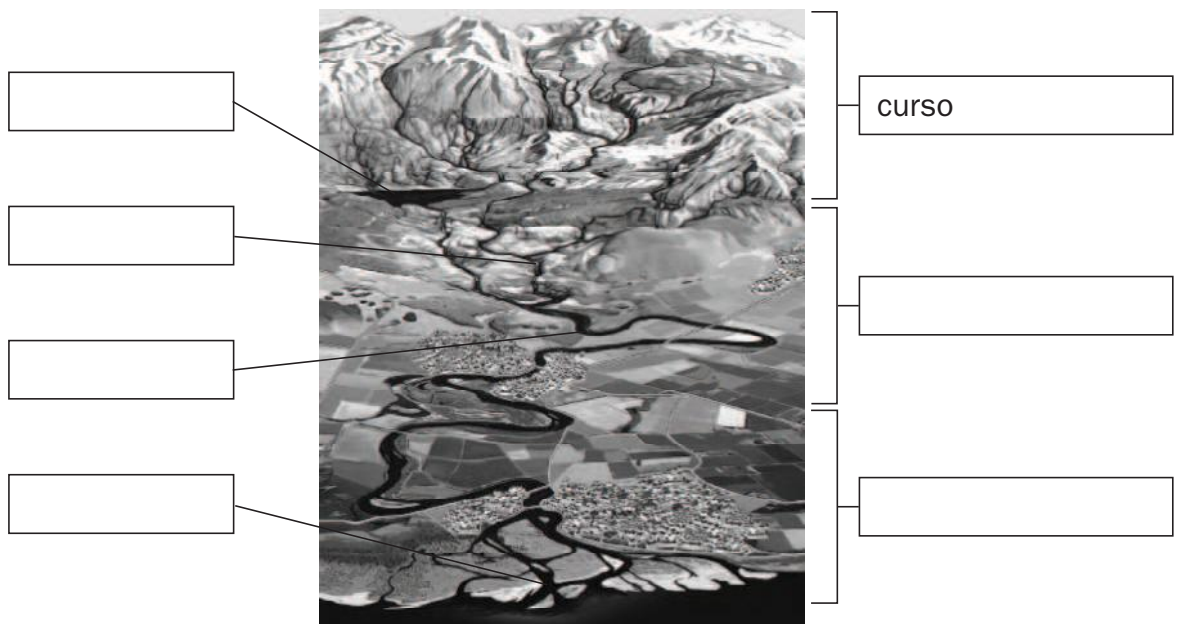
Si el caudal no varía mucho a lo largo del año, el río es de **régimen regular**.
Si tiene grandes variaciones, es de **régimen irregular**.

1. ¿A qué palabras se refieren las siguientes definiciones? Escribe.

- Recorrido de un río desde su nacimiento hasta su desembocadura. ▶ _____
- Lecho por el que discurre un río. ▶ _____
- Variación que tiene el caudal de un río a lo largo del año. ▶ _____
- Corriente continua de agua que nace en las montañas y discurre por un cauce. ▶ _____

2. Completa el dibujo con las siguientes palabras.

curso alto	curso medio	curso bajo	delta
meandro	afluente	embalse	



Nombre _____ Fecha _____

Recuerda

Una **vertiente** es el conjunto de tierras cuyos ríos, barrancos y torrentes vierten sus aguas a un mismo mar. En España hay tres vertientes: al norte, la **vertiente cantábrica**; al este y al sur, la **vertiente mediterránea**; y al oeste, la **vertiente atlántica**.

1. Observa el mapa de España. Después, completa.



- Escribe el nombre de dos ríos que pertenezcan a la vertiente mediterránea.

- Escribe el nombre de dos ríos que pertenezcan a la vertiente cantábrica.

- Escribe el nombre de dos ríos que pertenezcan a la vertiente atlántica.

■ Ahora, colorea el mapa según se indica.

rojo vertiente mediterránea

azul vertiente atlántica

verde vertiente cantábrica

Nombre _____ Fecha _____

Recuerda

Los ríos de España forman parte de tres vertientes fluviales:

- la **mediterránea**, con ríos de régimen irregular;
- la **cantábrica**, con ríos cortos y caudalosos;
- la **atlántica**, con ríos largos y bastante caudalosos.

1. Marca con una X las respuestas correctas.

- Los ríos de la vertiente mediterránea son:
 - muy caudalosos.
 - con fuerte pendiente.
 - cortos y poco caudalosos.
- Los ríos de la Meseta:
 - son los más cortos de la Península.
 - pertenecen a la vertiente atlántica y son los más largos de la Península.
 - pertenecen a la vertiente cantábrica.
- Los ríos de la vertiente cantábrica son:
 - cortos, con fuerte pendiente, caudalosos y con régimen irregular.
 - largos, con fuerte pendiente, caudalosos y con régimen irregular.
 - cortos, con fuerte pendiente, caudalosos y con régimen regular.
- En Canarias hay:
 - ríos.
 - barrancos.
 - ramblas.

2. Completa con los datos del río Júcar.

Río Júcar

- Nacimiento: _____
- Desembocadura: _____
- Vertiente: _____
- Caudal: _____
- Régimen: _____

Nombre _____ Fecha _____

- La población de España aumenta porque el **crecimiento natural** y el **crecimiento migratorio** son positivos.
- La población se concentra en las provincias de costa y en las ciudades. En las provincias del interior la densidad es baja, excepto en Madrid.

1. Lee el siguiente texto y explica por qué es incorrecto.

En España, la natalidad es menor que la mortalidad, por eso el crecimiento natural es positivo. Además, el número de emigrantes es muy superior al de inmigrantes, por eso el crecimiento migratorio es positivo.

2. Completa con el nombre de dos provincias en cada caso.



- Provincias con menos de 10 habitantes por km². ► _____
- Provincias con más de 600 habitantes por km². ► _____

Nombre _____ Fecha _____

Recuerda

La población se clasifica en **población activa** y **población inactiva**.

- La población activa es el conjunto de personas que está en edad y condición de trabajar.
- La población inactiva es el conjunto de personas que no puede trabajar por su edad o condición.

En España, la población activa se distribuye así: el 5 % trabaja en el sector primario; el 30 %, en el secundario; y el 65 %, en el terciario.

1. Lee las siguientes oraciones, marca con una X las falsas y cópialas correctamente.

- Los parados son población inactiva porque no trabajan.
- La población inactiva trabaja en tres sectores económicos: primario, secundario y transportes.
- Los mineros pertenecen al sector primario.

2. Marca con una X la respuesta correcta.

- Los cultivos que más abundan en España son:
 - los de secano. los de regadío.
- El ganado más abundante en nuestro país es:
 - el vacuno. el porcino.
- En España, la mayor parte de los barcos que se dedican a la pesca son:
 - de bajura. de altura.

3. Indica qué actividades comprende el sector secundario.


Nombre _____ Fecha _____

Recuerda

- El **sector terciario** comprende las actividades económicas que no obtienen productos materiales, sino que prestan servicios. Este sector incluye actividades como el comercio, el transporte y el turismo.
- En España, en el **sector servicios** trabaja el 65% de la población ocupada.

1. Completa el crucigrama.

1. Sector que, en España, emplea al 65% de la población activa.
2. Servicio que pone en contacto los productos y los consumidores.
3. Vender productos a otros países.
4. Actividad que traslada personas o mercancías.
5. Servicio que comprende los desplazamientos de las personas a diferentes lugares en busca de descanso o diversión.
6. Tipo de comercio que se realiza dentro de un mismo país.
7. Tipo de turismo que se centra en ciudades con rico patrimonio histórico y artístico.



2. Explica qué tipos de transporte hay y pon un ejemplo en cada caso.

Nombre _____ Fecha _____

Recuerda

- El territorio español se organiza en **17 Comunidades** y dos **Ciudades Autónomas**.
- Los **límites** de España son: al norte, Francia, Andorra y el mar Cantábrico; al este, el mar Mediterráneo; al sur, el océano Atlántico, Marruecos y el mar Mediterráneo; y al oeste, Portugal y el océano Atlántico.

1. Completa el esquema de los límites de España.

Límites naturales	Límites políticos
<ul style="list-style-type: none"> • al norte ▶ _____ • al sur ▶ _____ • al este ▶ _____ • al oeste ▶ _____ 	<ul style="list-style-type: none"> • al norte ▶ _____ • al sur ▶ _____ • al oeste ▶ _____

2. Completa el mapa con el nombre de las Comunidades y Ciudades Autónomas que integran España y sus límites.



Nombre _____ Fecha _____

Recuerda

La **Constitución** española es la ley más importante de España. Es un texto legal que organiza la vida política de España.

En la Constitución se recogen los **derechos y deberes de los españoles** y las **instituciones del Estado**.

1. Marca la respuesta correcta. Después, copia la oración completa.

- La ley más importante de España es:

la Constitución.

los Estatutos de Autonomía.

- España es una monarquía:

parlamentaria.

constitucional.

- El jefe del Estado es:

el rey.

el presidente del Gobierno.

- El Congreso de los Diputados y el Senado forman:

las Cortes Generales.

el Gobierno.

- El presidente del Gobierno es nombrado por:

el rey.

el Congreso de los Diputados.

2. Completa la tabla.

Institución	Funciones	Miembros
Jefe del Estado		
Cortes Generales		
Gobierno		
Tribunales de Justicia		